

CONTRÔLE 2002

1er CYCLE 2è NIVEAU (I.M.2)

NOM : Prénom : Société :

Allegro Colchiques dans les prés

1 2 3 4 5 6 7 Rall. 8

1°) A Que signifie Allegro ? (entourer la bonne réponse)

Lent Modéré Vite

/1

2°) A Que signifie le signe ' à la mesure 4 ?

..... /1

B La 1ère mesure n'est pas complète. Comment s'appelle ce départ ?

..... /1

3°) A Comment s'appelle le signe placé à la clef ? (entourer la bonne réponse)

un dièse un bémol

/1

B A quoi sert-il ? /1

4°) A Donner le nom des intervalles entourés :

A

B /2

5°) B $\frac{3}{4}$ est une mesure (entourer la bonne réponse)

Binaire Ternaire

/1

B Combien y a-t-il de temps à la mesure 5 ? /1

6°) B Que signifie rall. (mesure 7) ? /1



CONTRÔLE 2002

1er CYCLE 2è NIVEAU (I.M.2)

NOM : Prénom : Société :

DICTEE MELODIQUE

A

B

RECONNAISSANCE D'INTERVALLES


A

B

DICTEE RYTHMIQUE

A

B



.54.

CONTRÔLE 2002

1er CYCLE - 2è année (I.M.2)

LECTURE DE NOTES

$\bullet = 80$

A musical exercise consisting of two staves. The top staff is in treble clef and contains a sequence of notes: C4, D4, E4, F4, G4, A4, B4, C5, D5, E5, F5, G5, A5, B5, C6. The bottom staff is in bass clef and contains a sequence of notes: C3, D3, E3, F3, G3, A3, B3, C4, D4, E4, F4, G4, A4, B4, C5.

LECTURE RYTHMIQUE

A $\bullet = 66$

A musical exercise in 3/4 time. The notation includes a treble clef, a 3/4 time signature, and a sequence of notes: C4, D4, E4, F4, G4, A4, B4, C5, D5, E5, F5, G5, A5, B5, C6. The exercise ends with a double bar line and a repeat sign.

B $\bullet = \bullet$

A musical exercise in 6/8 time. The notation includes a treble clef, a 6/8 time signature, and a sequence of notes: C4, D4, E4, F4, G4, A4, B4, C5, D5, E5, F5, G5, A5, B5, C6. The exercise ends with a double bar line and a repeat sign.

CONTRÔLE 2002

CORRIGE ANALYSE 1er CYCLE 2è NIVEAU (I.M.2)

Allegro Colchiques dans les prés

1°) A Que signifie Allegro ? (entourer la bonne réponse)

Lent Modéré Vite

2°) A Que signifie le signe ' à la mesure 4 ?

..... qu'il faut respirer

B La 1ère mesure n'est pas complète. Comment s'appelle ce départ ?

..... départ en anacrouse

3°) A Comment s'appelle le signe placé à la clef ? (entourer la bonne réponse)

un dièse un bémol

B A quoi sert-il ? a abaisser la note d'un demi ton

4°) A Donner le nom des intervalles entourés :

A Quinte B Tierce

5°) B $\frac{3}{4}$ est une mesure (entourer la bonne réponse)

Binaire Ternaire

B Combien y a-t-il de temps à la mesure 5 ? 3

6°) B Que signifie rall. (mesure 7) ? Ralentir le tempo

CONTRÔLE 2002

1er CYCLE 2è NIVEAU (I.M.2)

CORRIGE

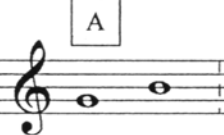
DICTEE MELODIQUE


A 

B 

1/2 pt par notes. ... -> /10.

RECONNAISSANCE D'INTERVALLES

A 

B 

2,5 par intervalle /10.

DICTEE RYTHMIQUE

A 

B 

1 pt par temps /10.